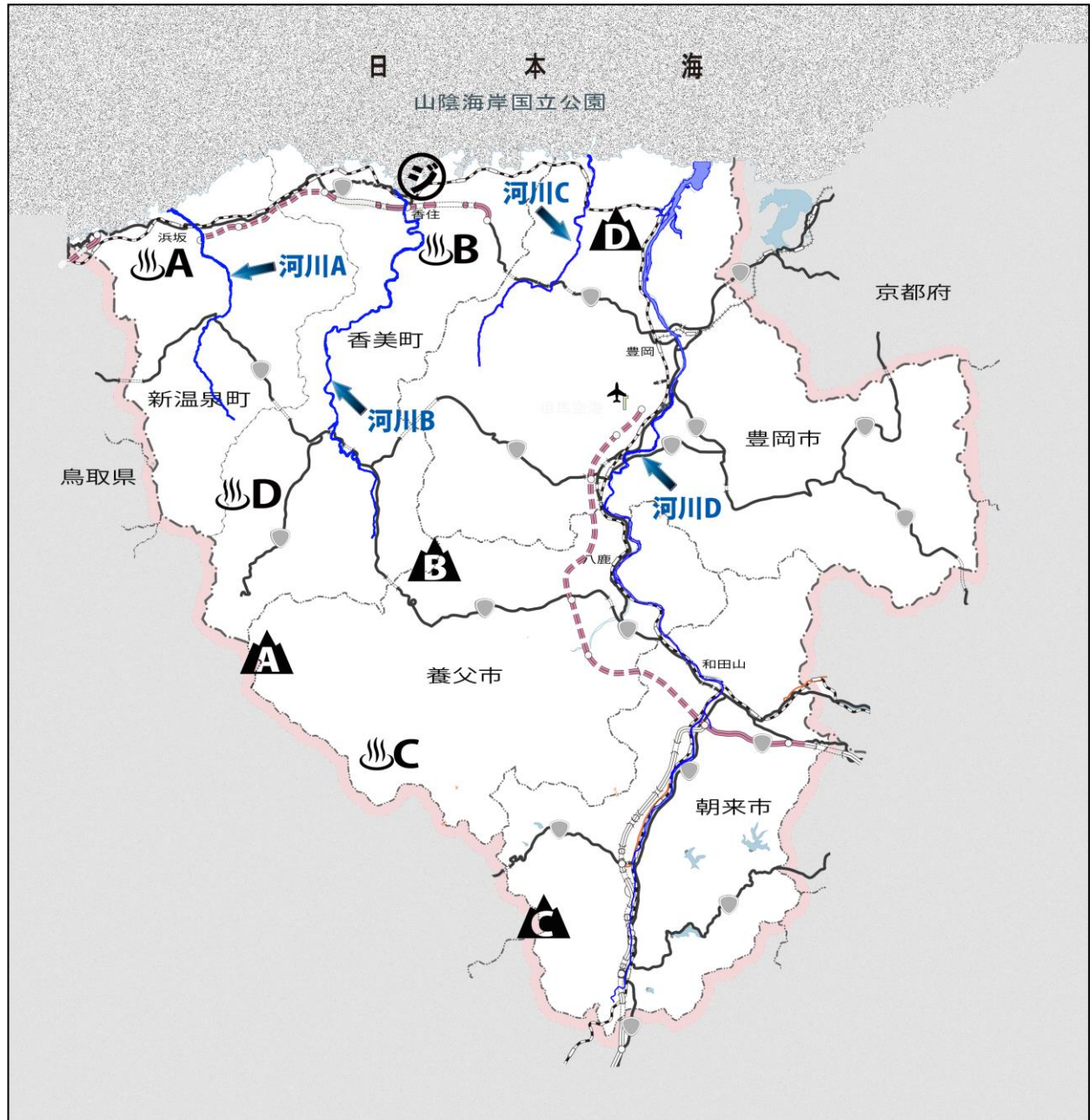
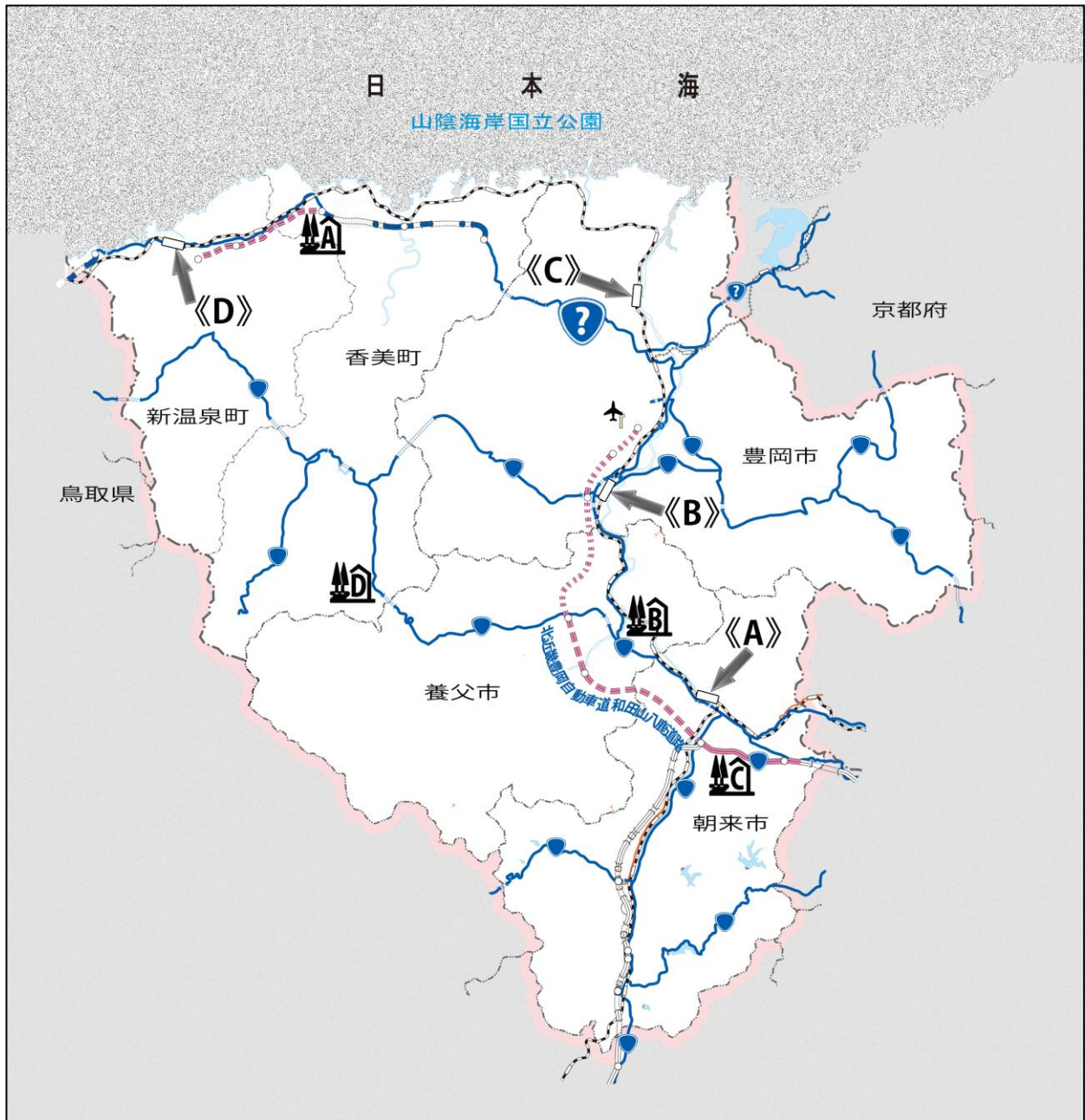



次の問いに答えなさい。



- 【1】「**A** ~ **D**」で示した山のうち、妙見山はどれでしょうか。  
 (a) **A**      (b) **B**      (c) **C**      (d) **D**
- 【2】「**河川A** ~ **河川D**」で示した河川のうち、竹野川どれでしょうか。  
 (a) **河川A**      (b) **河川B**      (c) **河川C**      (d) **河川D**
- 【3】「**♨️A** ~ **♨️D**」で示した外湯温泉施設のうち、「若杉高原温泉」はどれでしょうか。  
 (a) **♨️A**      (b) **♨️B**      (c) **♨️C**      (d) **♨️D**
- 【4】「**ジ**」で示した山陰海岸ジオパーク関連施設は次のうちどれでしょうか。  
 (a) 山陰海岸ジオパーク館      (b) 北前館  
 (c) 海の文化館      (d) 玄武洞公園



【5】「」で示した国道は次のうちどれでしょうか。


- (a) 175号      (b) 176号      (c) 178号      (d) 426号

【6】山陰本線上の「 $\langle A \rangle \sim \langle D \rangle$ 」の駅のうち、「近畿の駅 100 選」に選ばれているのはどれでしょうか。

- (a)  $\langle A \rangle$       (b)  $\langle B \rangle$       (c)  $\langle C \rangle$       (d)  $\langle D \rangle$

【7】「 ~ 」のうち、道の駅「但馬のまほろば」はどれでしょうか。

- (a)       (b)       (c)       (d) 

【8】今年度、国道483号北近畿豊岡自動車道和田山八鹿道路が開通し、新しいインターチェンジができます。このうち、「」に示す位置に新しくできるインターチェンジの名称は次のうちどれでしょうか。

- (a) 八鹿妙見山      (b) 八鹿氷ノ山      (c) 村岡蘇武岳      (d) 小代瀬川山

【9】平成 22 年に但馬地域を訪れた観光客は、但馬の人口のおよそ何倍でしょうか。

- (a) 10倍 (b) 30倍 (c) 50倍 (d) 100倍

【10】但馬地域にJRの駅は、いくつあるでしょうか。

- (a) 20 (b) 21 (c) 22 (d) 23

【11】近年になって但馬各地で確認されているホタルで、川のほとりではなく、森などの陸地に棲息するのは次のうちどれでしょうか。

- (a) ゲンジボタル (b) ヘイケボタル  
(c) ヒメボタル (d) ベニボタル

【12】山陰海岸のジオスポットとして県指定文化財にもなっている「淀の洞門」と「はさかり岩」の間にあり、かつて海水浴期間中に臨時に設けられた鉄道駅の名前にも使われていた海水浴場は次のうちどれでしょうか。

- (a) 佐津 (b) 安木浜 (c) 切浜 (d) 弁天浜

【13】次のうち、但馬・理想の都祭典 20 周年事業のロゴマークとして正しいのはどれでしょうか。

- (a) (b) (c) (d)



【14】朝来市少年少女オーケストラが本年8月に初めて海外に派遣され、演奏会を開きました。訪れたのは次のどの国でしょうか。

- (a) イギリス (b) アメリカ  
(c) オーストラリア (d) オーストリア

【15】本年7月にオープンした、但馬で11か所目の道の駅は、次のどれでしょうか。

- (a) 平家の里 (b) ジオパーク (c) あまるべ (d) 香住

※但馬の歴史に関する次の記述中、( 16 )から( 21 )に入るのはどれでしょうか。

奈良時代には聖武天皇の命により、全国に国分寺・国分尼寺が建立され、但馬国では現在の豊岡市日高町国分寺に建てられたことがわかっている。

また、この頃は、中央と地方を結ぶ主要道が整備された。但馬内は山陰道の道筋に属し、ルートは、( 16 )峠で丹波の国から朝来市山東町に入り、現在の養父市、香美町村岡区、新温泉町で蒲生峠に入り、( 17 )の国へと続いていた。

【16】 (a) 遠阪 (b) 夜久野 (c) 登尾 (d) 天谷

【17】 (a) 伯耆 (b) 播磨 (c) 因幡 (d) 美作

但馬各地には、平家落人伝説が数多く残っている。香美町香住区の御崎地区では、平家再興を願う伝統行事「百手の儀式」が今も守り継がれている。

また、豊岡市気比に残る宝篋印塔ほうきょういんとうは、この地に潜伏していた平家落人( 18 )を供養するために建てられたと伝えられている。

【18】 (a) 安達親長 (b) 太田昌明  
(c) 坂尾源左衛門 (d) 越中次郎兵衛盛継

江戸中期になると、但馬沿岸の港は、各地の産物を運ぶ北前船の寄港地として栄えた。

また、1753 年(宝暦 3 年)には円山川と市川を結んで播磨や大坂(大阪)へ荷を運ぶ( 19 )が始められている。

1847 年(弘化 4 年)には但馬の港から久美浜代官所に 169 艘が免許の申請をした。

その中でも( 20 )が突出して多く、全体の3分の1を占めていた。

【19】 (a) 馬車廻り通船 (b) 山廻り通船  
(c) 川廻り通船 (d) 近廻り通船

【20】 (a) 竹野港 (b) 柴山港 (c) 香住港 (d) 諸寄港

江戸後期は教育熱が高まり、出石藩の弘道館、豊岡藩の稽古堂、村岡山名領の( 21 )といった藩校が開設された。

【21】 (a) 明倫館 (b) 教倫館 (c) 明道館 (d) 明親館



【22】豊岡市日高町の円山川東岸にある、約50基の小古墳の中で、直径約30m、但馬で2番目の大型石室を持つ円墳がありますが、それは次のうちどれでしょうか。

- (a) 楯縫古墳 (b) ケゴヤ古墳 (c) 二見谷古墳群 (d) 城ノ山古墳

【23】「<sup>ほしんねんめいたち</sup>戊辰年銘大刀」を始め、103点の遺物が国の重要文化財に指定され、現在は養父市のつるぎが丘公園として整備されているのは、どの古墳群でしょうか。

- (a) 箕谷古墳群 (b) 八幡山古墳群  
(c) 大藪古墳群 (d) 二見谷古墳群

【24】但馬では池田古墳に次ぐ大きさの前方後円墳で、同一水面の周濠を備えた前方後円墳としては但馬唯一のものとされているのは、どの古墳でしょうか。

- (a) 船宮古墳 (b) 城ノ山古墳  
(c) 観音塚古墳 (d) 小円山古墳遺跡

【25】但馬地方で最も古い遺跡では、約2万5千年前の旧石器時代のナイフ形石器が発見されていますが、次のうちどれでしょうか。

- (a) 神鍋遺跡 (b) 中谷貝塚 (c) 畑ヶ平遺跡 (d) 見蔵岡遺跡

【26】次の遺跡等と時代の組合せで誤っているのはどれでしょうか。

- (a) 別宮家野遺跡－縄文時代 (b) 気比の銅鐸－弥生時代  
(c) 見蔵岡遺跡－奈良時代 (d) 雅成親王墓－鎌倉時代

【27】竹田城跡に関する次の記述中、( A )( B )( C )にあてはまる語句の組合せのうち、正しいのはどれでしょうか。

竹田城は全国屈指の山城で、その勇壮な姿から別名( A )と呼ばれており、映画「天と地」や「( B )」のロケ地として使用されたことがある。

石垣は<sup>あのう</sup>穴太流石積技法が用いられており、これは( C )城にも用いられている。

- (a) A 虎臥城 B あなたへ C 安土城  
(b) A 白鷺城 B ノルウェイの森 C 安土城  
(c) A 虎臥城 B あなたへ C 二条城  
(d) A 白鷺城 B 赤穂浪士 C 安土城

【28】神社と一般的に(主な)祭神といわれているものの組合せが正しいのはどれでしょうか。

- (a) 中嶋神社 — 阿米弥佐利命 (あめのみさりのみこと)  
(b) 赤淵神社 — 酒弥豆男命 (さけみつおのみこと)  
(c) 黒野神社 — 大海龍王神 (たいかいりゅうおうしん)  
(d) 宇都野神社 — 須佐之男命 (すさのおのみこと)

【29】次の A と B の神社と、所在する市町の組合せが正しいのはどれでしょうか。

A ささばやし(太鼓踊り)に使用する農村歌舞伎舞台が県指定有形民俗文化財に指定されている安牟加神社

B 全国的にも珍しい半円形石積段型棧敷「相撲棧敷」が県指定有形民俗文化財に指定されている表米神社

- (a) A : 新温泉町 B : 香美町 (b) A : 香美町 B : 養父市  
(c) A : 養父市 B : 豊岡市 (d) A : 豊岡市 B : 朝来市

【30】但馬の名のいわれははっきりしていませんが、「多遅麻」と記されているのは次のどの書物でしょうか。

- (a) 日本書紀 (b) 古事記 (c) 太平記 (d) 風土記

【31】花びらが10枚、1つの花にめしべが1~6本もあることで珍しいと言われている、学名「プルヌス・タジマエンシス・マキノ」と呼ばれる桜があることで有名な新温泉町にある寺は、どれでしょうか。

- (a) 浅間寺 (b) 正福寺 (c) 正楽寺 (d) 大林寺

【32】次の文章は豊岡市城崎町にある温泉寺について記述したのですが、誤っているものは、どれでしょうか。

- (a) 高野山真言宗の別格本山  
(b) 道智上人が創建  
(c) 木造四天王立像、木造金剛力士立像が国指定重要文化財  
(d) 本尊は「十一面観音立像」

【33】但馬守護の山名持豊(宗全)をはじめ、垣屋、八木、太田垣氏など但馬の有力武将たちの祈願所であった養父市八鹿町にある寺院は、どれでしょうか。

- (a) 福王寺 (b) 日光院 (c) 浅間寺 (d) 今滝寺

【34】次の2つの寺院の名前の組合せが正しいのはどれでしょうか。

A 奈良時代に行基が開いたとされる古刹で、現在は精進料理の寺としても知られている。

B 円山応挙にも師事した鳥取の絵師「片山楊谷」が描いた老松図、猛虎図などの但馬を代表する障壁画がある。

- (a) A : 宗鏡寺 B : 円龍寺 (b) A : 円龍寺 B : 円通寺  
(c) A : 総持寺 B : 山路寺 (d) A : 隆国寺 B : 宗鏡寺

【35】次の2つの寺院と所在する市町の組合せが正しいのはどれでしょうか。

A 国指定重要文化財「木造四天王立像」や県指定文化財「絹本著色両界曼荼羅図」などがある東楽寺

B 奥の院「岩屋観音」に県指定文化財「石仏群」が安置されている鷲原寺

- (a) A : 新温泉町 B : 香美町 (b) A : 豊岡市 B : 朝来市  
(c) A : 豊岡市 B : 養父市 (d) A : 養父市 B : 新温泉町

【36】但馬には花や木で有名な寺院がありますが、次のうち寺院と植物の組合せが誤っているのはどれでしょうか。

- (a) 遍照寺（香美町）　　－　ボタン
- (b) 泰雲寺（新温泉町）　－　シダレザクラ
- (c) 高照寺（養父市）　　－　モクレン・シラハギ
- (d) 安国寺（豊岡市）　　－　ドウダンツツジ

【37】生野鉱山に関連する歴史遺産・近代化産業遺産に関する記述で、誤っているものはどれでしょうか。

- (a) 旧生野警察署は、明治時代に建設された木造平屋建の擬洋風建築物である。
- (b) 旧海崎医院は、明治時代に建設された洋風と和風を折衷した建築物である。
- (c) 旧吉川邸は、まちづくり活動の拠点施設「以命亭」となっている。
- (d) 「カラミ石」は、金属を取り出す製錬過程で発生した鉱石のくずを固めたものである。

【38】かつて、一元電車は、次のどの間を走っていたでしょうか。

- (a) 生野鉱山－明延鉱山
- (b) 明延鉱山－神子畑選鉱所
- (c) 神子畑選鉱所－生野鉱山
- (d) 明延鉱山－中瀬鉱山

【39】1912年(明治45年)に建築された「余部橋りょう」は、2010年(平成22年)に架け替えられ、橋脚及び橋桁の一部が保存・展示されています。鉄の檣を組んだかつての橋脚は何式というのでしょうか。

- (a) アーチ式
- (b) ニールセン式
- (c) トラス式
- (d) トレessel式

【40】1911年(明治44年)に完成した、香美町と新温泉町の町境にある「桃観トンネル」の長さは何mでしょうか。

- (a) 1, 891m
- (b) 1, 991m
- (c) 1, 999m
- (d) 2, 000m

【41】山陰本線の竹野川橋りょう、田君川橋りょうの特徴であるラチス桁橋について、正しいのはどれでしょうか。

- (a) 鉄材を互いに直角に交わるように組み、格子状になっている
- (b) 弓のように反った曲線構造を使って荷重を支える橋
- (c) 細長い部材を両端で三角形に繋いだ構造を繰り返して橋桁を構成する
- (d) 塔から斜めに張ったケーブルを橋桁に直接つなぎ支える

【42】円山川に架かる鶴岡橋は、1937年(昭和12年)に建設され、円錐形の橋脚は近代土木遺産として評価されています。現在、老朽化により架け替え工事が行われていますが、この橋は次のどの国道が通っているのでしょうか。

- (a) 427号
- (b) 428号
- (c) 472号
- (d) 482号

【43】次のうち明治時代に建てられた建築物でないのはどれでしょうか。

- (a) 出石明治館 (旧出石郡役所)      (b) 民俗資料館まほろば (旧七美郡役所)  
(c) 豊岡カトリック教会              (d) 一区公民館 (旧生野警察署)

【44】県下最高峰の氷ノ山に関する次の記述中、( A )( B )( C )( D )の組合せの正しいものはどれでしょうか

中国山地では大山(1,709m)について高い山で、標高は( A )あり、「兵庫の屋根」である。

約( B )万年前の火山噴火によって形成されたと考えられるが、その後の風化、浸食作用によって、当時の火山地形は余り残していない

国の天然記念物である( C )の生息地としても知られ、( D )の原生林や高地性湿原の古生沼など学術的に貴重な自然が残されている。

- (a) A 1,510m      B 300      C イヌワシ      D ブナ  
(b) A 1,510m      B 250      C イヌワシ      D ミズナラ  
(c) A 1,550m      B 300      C イヌワシ      D ブナ  
(d) A 1,550m      B 500      C イヌワシ      D ブナ

【45】山陰海岸ジオパークの「神鍋エリア」は、円山川の支流である稲葉川の上流に位置し、県内で最も新しい火山のひとつである「神鍋山」などから流出した玄武岩が水流に浸食され、独特の景観をなしています。次のうち、神鍋エリアに含まれないのはどれでしょうか。

- (a) 栃本の溶岩瘤                      (b) 海底面の流痕  
(c) ひょうたん淵                      (d) らんかん淵

【46】但馬最大の河川である「円山川」の延長は 67kmありますが、兵庫県で何番目の長さでしょうか。

- (a) 2番目      (b) 3番目      (c) 4番目      (d) 5番目

【47】扇ノ山を源流とする岸田川の上流部では、上山高原エコミュージアムの取り組みによる環境保全・自然再生による地域活性化を図る取り組みが進められていますが、次のうちこのエリアに含まれる滝はどれでしょうか。

- (a) 猿尾滝      (b) 吉滝      (c) 霧ヶ滝      (d) 天滝

【48】次の河川はいずれもその急峻な流れが美しい渓谷を造り出しており、紅葉や釣りスポットなどになっていますが、円山川に流れているのはどの川でしょうか。

- (a) 湯舟川      (b) 小又川      (c) 久須部川      (d) 糸井川

【49】兵庫県の最北端に位置し、竹野川の河口から細長く日本海に突き出ている半島の名前は次のうちどれでしょうか。

- (a) 猫崎半島      (b) 犬崎半島      (c) 牛崎半島      (d) 猿崎半島



【50】次の場所に自生(群生)する植物の組合せのうち誤っているのはどれでしょうか。

- (a) 加保坂(養父市) — ミズバショウ
- (b) 鉢伏高原(養父市) — ミツガシワ
- (c) 別宮(養父市) — オキナグサ
- (d) 絹巻神社(豊岡市) — 温帯性原生林

【51】豊岡市畑上にある「大トチノキ」は、国指定天然記念物に指定されている古木ですが、その樹齢はおよそ何年といわれているのでしょうか。

- (a) 500年
- (b) 600年
- (c) 800年
- (d) 1000年

【52】養父市大屋町樽見の「大ザクラ」は、県下最大クラスの桜で、推定樹齢は1,000年ともいわれ、地元で親しみをもって呼ばれている名前が日本酒の銘柄にもなっています。それは次のうちどれでしょうか。

- (a) 銭櫻
- (b) 千櫻
- (c) 仙櫻
- (d) 鮮櫻

【53】但馬には、「アベマキ」として国内で唯一、国の天然記念物に指定されている貴重な巨木があります。この木は次のどこにあるのでしょうか。

- (a) 豊岡市
- (b) 養父市
- (c) 朝来市
- (d) 香美町

【54】豊かな自然が残っている但馬にはカツラの巨木がたくさんあります。樹齢約2,000年、但馬で唯一、国指定天然記念物となっているカツラは次のうちどれでしょうか。

- (a) 別宮の大カツラ
- (b) 糸井の大カツラ
- (c) 和池の大カツラ
- (d) 兎和野の大カツラ

【55】朝来市八代の足鹿神社境内にそびえる樹齢1600年と推測される国指定天然記念物の古木で、市の木ともなっているのは次のうちのどの木でしょうか。

- (a) イチョウ
- (b) ケヤキ
- (c) マツ
- (d) サクラ

【56】香美町村岡区のハチ北高原に自生している、3000株を超える群落で、ミズバショウと同じくサトイモ科の植物は次のうちどれでしょうか。

- (a) オキナグサ
- (b) バイカモ
- (c) ザゼンソウ
- (d) ワカサハマギク

【57】清流の目安とされる程きれいな冷水域でないと成長できず、新温泉町を流れる田君川に群生する植物で、毎年5月から11月まで、梅の花によく似た5弁の白い花をつけるこの植物の名前は何かと言うのでしょうか。

- (a) バイカモ
- (b) ミズアオイ
- (c) サデクサ
- (d) ミクリ

【58】円山川の下流域にある中州で、湿原性の植物「ミクリ」などの絶滅危惧植物が集中して分布している場所は次のうちどれでしょうか。

- (a) 後ヶ島 (b) 黒島 (c) 白石島 (d) ひのそ島

【59】円山川の下流域は海面差がほとんどなく、淡水でも海水でもない( )と呼ばれる水域です。( )に入る言葉は次のうちどれでしょうか。

- (a) 希水 (b) 汽水 (c) 奇水 (d) 揮水

【60】本年7月3日、円山川下流域及び周辺水田が、水鳥の生息地として国際的に重要な湿地を保全する「ラムサール条約」に登録されました。この条約に登録された湿地について誤っているものはどれでしょうか。

- (a) 登録湿地の名称に河川名が入るのは、日本では初めてである。  
(b) 国内の登録地で面積が最も広いのは琵琶湖である。  
(c) 登録数が最も多い都道府県は北海道である。  
(d) 現在、日本国内の登録数は37ヵ所である。

【61】但馬に残る次の民俗芸能のうち、8月のお盆に行われぬのはどれでしょうか。

- (a) 海上の傘踊り (b) 岸田さえもん踊り  
(c) 丹土はねそ踊り (d) ささばやし太鼓踊り

【62】但馬で舞い伝えられている大神楽<sup>だいかぐら</sup>は、古来、各戸を訪れて、「ある神社」の御札を配り、火防や家内安全などの祈祷のために獅子舞を舞った人々から教えてもらい舞い始めたとか、「ある神社」に参詣する途中で習い覚えた、などとされています。ある神社とは次のどれでしょうか。

- (a) 八坂神社 (b) 出雲大社 (c) 熊野速玉大社 (d) 伊勢神宮

【63】丹後地方から伝わったとされ、現在豊岡市但東町中山地区において行われている五穀豊穡と無病息災を祈願する伝統芸能は次のどれでしょうか。

- (a) 宮神楽 (b) 太刀振り (c) はねそ踊り (d) 傘踊り

【64】この地区に伝わる「太鼓踊り」は、「ざんざか・ざんざこ踊り」といった風流太鼓踊りと同じ系統に属す一方で、衣裳は白浴衣のみ、また神社ではなく、お寺において盆の仏事として行われています。その場所は次のうちどこでしょうか。

- (a) 豊岡市竹野町轟 (b) 豊岡市但東町中山  
(c) 養父市奥米地 (d) 新温泉町海上

【65】毎年10月、静かに神前に奉納する質素な演技が特徴で、「幕切り」から「昇殿の舞」まで7種類の舞いを約3時間かけて踊るといふ「宮神楽」が行われる石部神社があるのは次のどの市町でしょうか。

- (a) 豊岡市 (b) 養父市 (c) 朝来市 (d) 香美町

【66】天下泰平、国家安穩などを祈願し、舞を氏神に奉納する神事が、但馬では唯一、香美町の7カ所で行われていますが、この神事は次のうちどれでしょうか。

- (a) お綱打ち      (b) 麒麟獅子舞      (c) 宮神楽      (d) 三番叟

【67】「御田植祭」が奉納される豊岡市の3地区(佐野・上佐野・納屋)の氏神として鎮座するのは次のうちのどの神社でしょうか。

- (a) 中嶋神社      (b) 日吉神社      (c) 金刀比羅神社      (d) 雷神社

【68】次の場所で行われる民俗行事としての綱引きのうち、月おくれの端午の節句(6月5日)を中心に行われる菖蒲綱引きでないのはどれでしょうか。

- (a) 新温泉町久谷      (b) 新温泉町湯  
(c) 香美町村岡区和田      (d) 養父市別宮

【69】秋に行われる祭りで、香美町小代区で子どもたちが長襦袢ながじゅばんをまったり、おしろいを塗り化粧をしたりして屋台を引き、にぎやかに村中を練り歩く祭りはどれでしょうか。

- (a) はやしこみ      (b) 瓶子渡祭  
(c) まいそうまつり      (d) 三番叟

【70】江戸時代の禅僧沢庵和尚に帰依したとされる徳川将軍は次のうち誰でしょうか。

- (a) 徳川家康      (b) 徳川家光      (c) 徳川綱吉      (d) 徳川吉宗

【71】江戸時代後期、但馬聖人と呼ばれた池田草庵が、但馬内外の子弟を教育し、多数の逸材を輩出した私塾「青谿書院」で学んだ子弟は延べ何人に達したでしょうか。

- (a) 700人      (b) 800人      (c) 900人      (d) 1,000人

【72】東京大学初代総理(長)となり、著書「国体新論」の開明的民権思想は今も高く評価されている加藤弘之の出身地はどこでしょうか。

- (a) 豊岡市但東町      (b) 豊岡市出石町  
(c) 豊岡市日高町      (d) 養父市八鹿町

【73】朝来市和田山町出身の歌人で、農民の喜びや悲しみを歌い、「但馬歌壇の父」ともいわれているのは誰でしょうか。

- (a) 丸山修三      (b) 前田純孝      (c) 藤原東川      (d) 若山牧水

【74】豊岡市名誉市民で、円山川塩津公園に銅像が建つ砂防の神様と呼ばれた人物は誰でしょうか。

- (a) 赤木正雄      (b) 河本重次郎      (c) 桜井 勉      (d) 上田広甫

【75】城崎温泉には7つの外湯がありますが、最も早く見つかったのは、どれでしょうか。

- (a) 御所の湯      (b) 鴻の湯      (c) まんだら湯      (d) 地蔵湯

【76】豊岡市田結の特産物として毎年5月中旬にイベントも行われ、4月から5月に採取される海藻類は次のうちどれでしょうか。

- (a) モズク      (b) ワカメ      (c) 岩ノリ      (d) ヒジキ

【77】朝来市特産物として商標登録されている「岩津ねぎ」は、京都・九条ねぎの改良種ですが、郷土史によると、元々次のどの業種の人たちのために栽培されたのが始まりでしょうか。

- (a) 農業      (b) 漁業      (c) 林業      (d) 鉱業

【78】養父市は芸術によるまちづくりに力を入れており、木彫や絵画、書、陶芸など多くの芸術家に移り住んでいます。平成24年4月、「ある施設」を活用した芸術振興の拠点施設「おおやアート村 ビッグラボ」がオープンしました。「ある施設」とは次のどれでしょうか。

- (a) 旧診療所      (b) 古民家      (c) 旧役場      (d) 旧高校

【79】朝来市にある関西電力奥多々良木発電所は、2つのダムの高低差を利用して発電する水力発電所ですが、次の記述で正しいのはどれでしょうか。

- (a) 揚水式の水力発電所としての最大出力は、国内2番目である。  
(b) 2つのダムの高低差は約300メートルである。  
(c) この発電所では電力使用のピーク時や、緊急時に発電を行っている。  
(d) この発電所で作られた電気は、すべて兵庫県内で使用されている。

【80】次の地名のうち、下線部の読み方が誤っているのはどれでしょうか。

- (a) 豊岡市江野 (ごうの)      (b) 養父市丹戸 (たんと)  
(c) 朝来市和田山町枚田 (ひらた)      (d) 新温泉町丹土 (たんど)